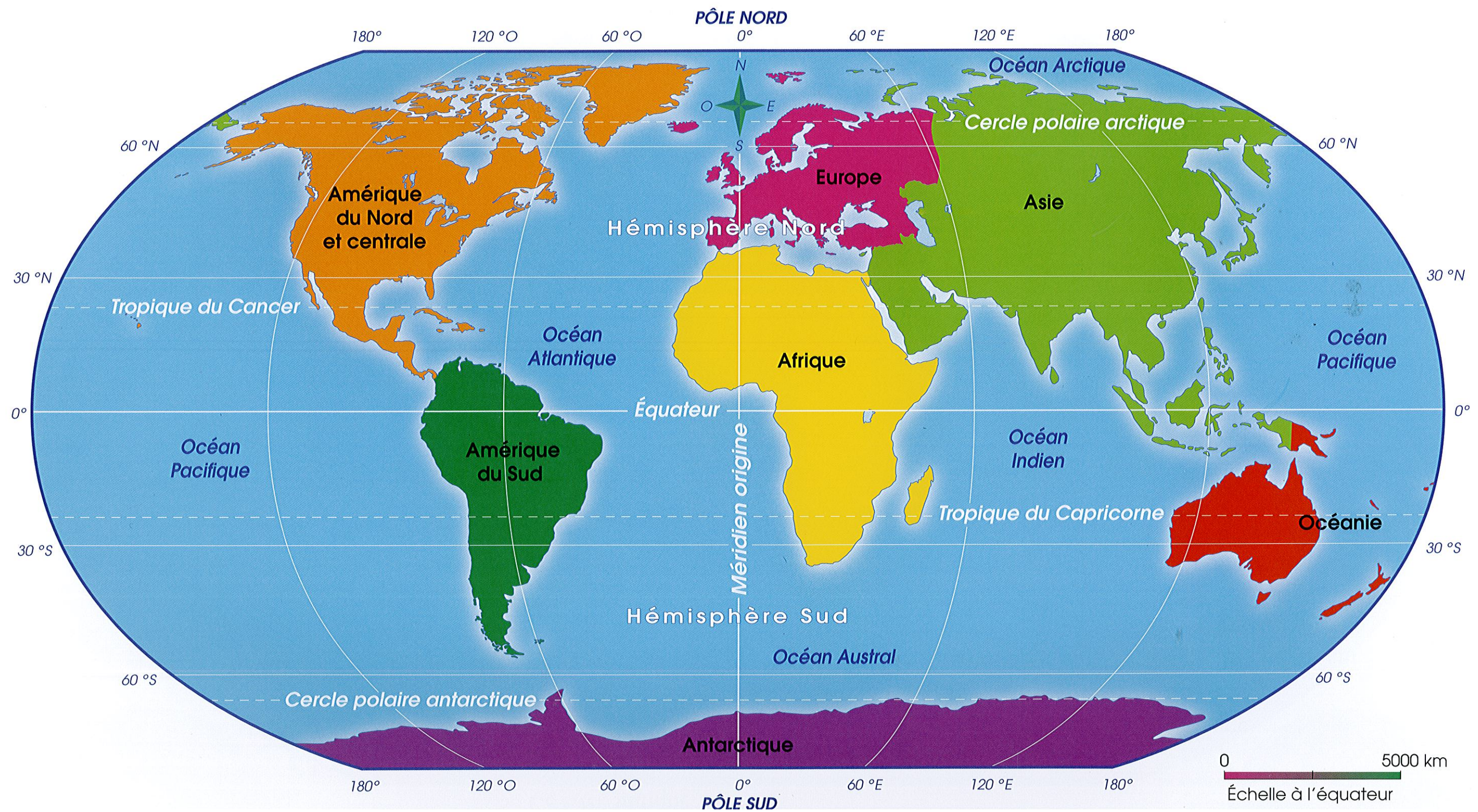


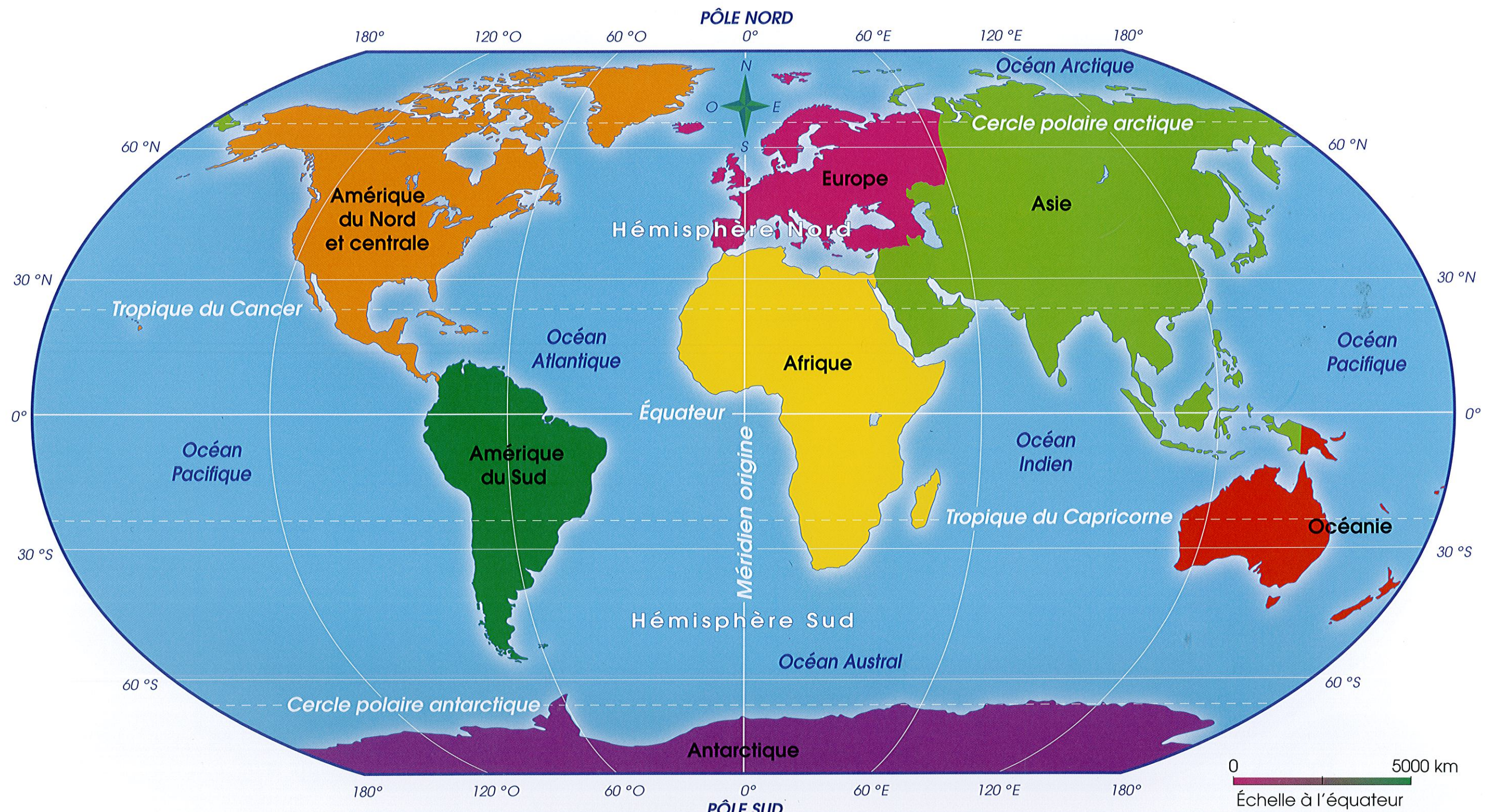
Les sept continents

Nous vivons sur le continent de l'**Amérique du Nord et centrale**.



Les sept continents

Nous vivons sur le continent de l'**Amérique du Nord et centrale**.



Nom: _____

Diagnostic de mathématique
Niveaux 2, 3, 4, 5, 6, 7, 8

Mois: _____ Année: _____

Niveau: _____

Encerle le plus grand.

255 864 ou 25 997

119 582 ou 103 232

14,35 ou 14,29

201,7 ou 201,32

$\frac{1}{2}$ ou $\frac{5}{6}$

Simplifie la fraction.

$\frac{5}{15} = \frac{\quad}{\quad}$


Additionne, soustrais, multiplie ou divise.

$\begin{array}{r} 62\,595 \\ + 14\,683 \\ \hline \end{array}$ $\begin{array}{r} 593,09 \\ + 72,14 \\ \hline \end{array}$ $\begin{array}{r} 82\,562 \\ - 35\,492 \\ \hline \end{array}$ $\begin{array}{r} 343,36 \\ + 261,67 \\ \hline \end{array}$ $\begin{array}{r} 5,9 \\ - 0,76 \\ \hline \end{array}$

$\begin{array}{r} 10 \\ \times 6 \\ \hline \end{array}$ $\begin{array}{r} 14 \\ \times 3 \\ \hline \end{array}$ $\begin{array}{r} 207 \\ \times 3 \\ \hline \end{array}$

$6 \overline{)204}$


5. Les Argonauts de Toronto et les Lions de la Colombie-Britannique se sont rencontrés pour le championnat de la coupe Grey en 2004. Remplis le tableau suivant.



Équipe \ Quart	1	2	3	4	Pointage final
Argonauts de Toronto	0	17	7	3	
Lions de la C.-B.	7	3	3	6	

Les _____ ont gagné par _____ points.

6. Lors d'une vente d'objets usagés, Johanne a vendu une chaise 9 \$, une lampe 3 \$, un tabouret 5 \$ et une patère 7 \$.



Combien d'argent a-t-elle reçu? _____ \$

Quelle est la différence de prix entre l'item le plus cher et l'item le moins cher? _____ \$



7. Le facteur a livré 19 lettres. Il en a livré deux à la première maison, quatre à la deuxième maison, aucune à la troisième, une à la quatrième et trois à la cinquième. Il a livré les autres lettres à la sixième maison.

Combien de lettres a-t-il livrées à la sixième maison? _____

RÉSOUS CE PROBLÈME!

Calcule chaque somme et chaque différence ci-dessous. Utilise le code pour barrer la lettre qui correspond à chaque réponse. Récris les lettres qui restent dans l'espace réservé pour la réponse.

- a) $10 + 8$ b) $5 - 4$ c) $4 + 4$ d) $13 + 4$ e) $11 - 9$ f) $15 + 5$
 g) $19 + 2$ h) $19 - 19$ i) $8 + 8$ j) $17 - 8$ k) $14 - 8$ l) $7 + 8$
 m) $17 - 4$ n) $10 - 7$ o) $6 + 6$ p) $11 - 7$ q) $14 - 3$

0	1	2	3	4	5	6	7	8	9	10	11	12	13	14	15	16	17	18	19	20	21	22
C	A	D	R	E	G	G	A	S	T	G	G	N	N	N	E	X	S	T	E	Z	E	Z

Les lettres qui restent épellent quoi? _____ !

8. Lorsque tu as terminé cette feuille d'exercices, joue à *Math Baseball* à www.funbrain.com/math